

H2B - L'émergence d'une nouvelle société urbaine

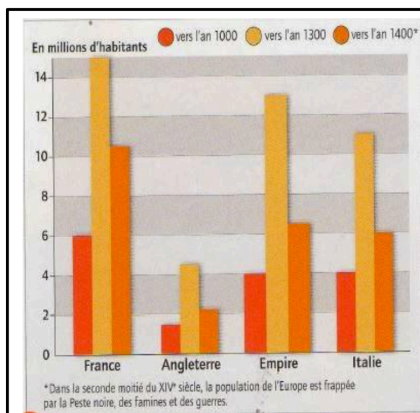
Introduction

Le Moyen Age, en Occident, connaît une expansion des villes. Comment les villes d'Occident se développent-elles au Moyen Age ?

Ville : lieu densément peuplé où l'on trouve de nombreuses activités économiques (commerces) et où siègent les pouvoirs politiques (Seigneur) et religieux (églises ou cathédrales).

I. Quels changements permettent aux villes de se développer au Moyen Age ?

Activité 1 – Le renouveau des villes en Occident



DOC 1 : Evolution de la population en Europe

1. Présentation du document _____
2. A quelle époque la population semble-t-elle avoir connu une forte croissance ? _____
3. Que se passe-t-il après ? _____
4. Qu'est-ce qui peut expliquer que la population se mette autant à augmenter entre l'an 1000 et 1300 _____
5. Qu'est-ce que l'augmentation de la population peut entraîner en matière de besoin ? _____
6. Quelle activité économique va donc surtout se développer à cette époque ? Quels métiers ? _____

1°) Il s'agit d'un graphique en bâton présentant l'évolution de la population européenne entre 1000 et 1400.

2°) La population augmente fortement vers 1300.

3°) La population diminue à cause d'épidémies et de guerres.

4°) La population augmente car les conditions de vie s'améliorent (températures plus modérées) et les guerres diminuent.

5°) Cela pose des problèmes dans l'accueil de ces nouvelles populations, dans la nourriture, l'emploi...

6°) Ce sont les métiers liés à la construction (maçons, menuisiers...).

DOC 2 : Les causes du développement des villes en Occident

« L'essor de la population en Occident à partir du XI^e ne fait aucun doute. De nombreux éléments en témoignent (...) et les effets en sont spectaculaires. Ce fut le temps des défrichements qui ont transformé les paysages de campagne mais ce fut aussi l'époque des fondations des villes. On assiste alors soit à la création de nouvelles villes, soit au peuplement de nouveaux bourgs à côté des villes anciennes, ces nouveaux quartiers sont appelés ainsi faubourgs. »

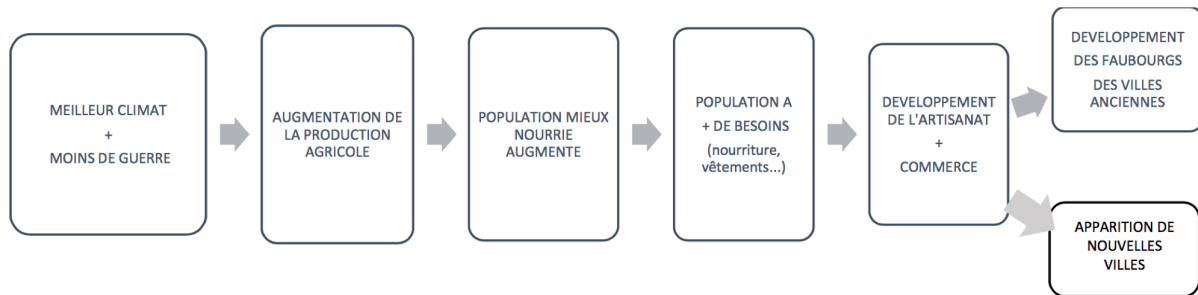
D'après J.HEERS, la ville au Moyen Age, Fayard 1990

1. D'après l'auteur, qu'est-ce qui est à l'origine du développement des villes ? _____
2. Où la population nouvelle décide-t-elle de s'installer dans les villes anciennes ? Pourquoi d'après toi ? _____
3. A quel autre phénomène assiste-t-on à cette époque ? _____

1°) C'est l'évolution démographique qui est à l'origine de la fondation des villes.

2°) Elle s'installe dans de nouveaux bourgs extérieurs à la ville, appelés faubourgs car les villes sont enserrées dans les remparts et ne peuvent se développer.

3°) On assiste au défrichement des campagnes.



Entre le XI^e et le XIV^e siècle, la population européenne double. Les villes s'imposent comme les lieux où accueillir cette nouvelle population.

II. Comment les villes médiévales sont-elles organisées ?

Activité 2 – Le développement des villes – Moulins dans l'Allier

1°) Présentez le document.

Il s'agit d'une enluminure datant de 1460 présentant un plan de la ville de Moulins dans l'Allier.

2°) Quel indice, sur cette représentation, nous explique de quelle manière cette ville est dirigée ?

La présence d'un château prouve l'autorité d'un seigneur.

3°) Par quoi la ville est-elle protégée ? De quoi ou qui est-elle protégée ?

La ville est protégée par des remparts des agressions extérieures de seigneurs rivaux par exemple ou de groupes vagabonds.

4°) Comment entre-t-on dans le château ?

On y entre par le biais d'un pont levis.

5°) Que doit-on trouver sur les ponts ?

Sur le pont, des gardes assurent la sécurisation de la cité et des taxes sont prélevées.

6°) Coloriez en violet le château et complétez la légende.

7°) Indiquez au bon endroit la localisation des éléments suivants : pont levis, fossés et églises.

8°) Coloriez en rouge les fortifications protégeant la ville. Complétez la légende.

9°) Coloriez en orange la ville close (maisons serrées, ruelles étroites et sinueuses).

10°) A quoi voit-on que la ville s'est agrandie ?

Des faubourgs se sont construits au-delà des murs de la ville.

11°) Comment appelle-t-on le quartier de la ville installée à l'extérieur des fortifications ? Indiquez-le sur le croquis.

On les nomme Faubourgs.

12°) Où s'est-il exactement installé ? Pourquoi ?

Ils sont installés à l'extérieur de la ville, proche des voies de communication, proche de l'entrée de la cité.

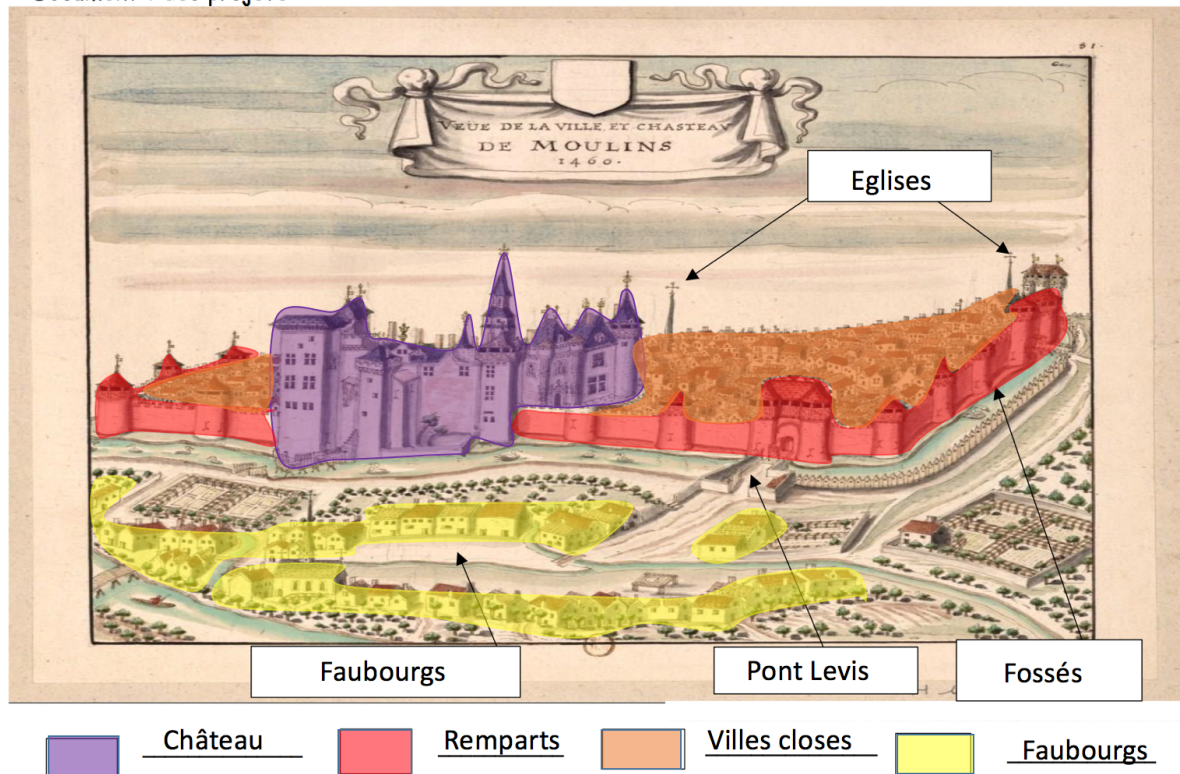
13°) Quelle catégorie de population s'y installe du fait de son besoin d'accès aux voies de communication ?

Ce sont les commerçants.

14°) Pourquoi cette population s'est installée à cet endroit particulier (aidez-vous des réponses 13 et 5) ?

Ils se sont installés à cet endroit pour s'affranchir du paiement des taxes.

15°) Coloriez ce quartier en jaune et complétez la légende.



Au Moyen Age, les villes sont protégées par des remparts et sont placées sous la protection d'un seigneur. A partir du XI^e siècle, le développement du commerce et de l'artisanat favorise le développement de la population urbaine. Les portes de la ville étant des lieux de passage obligés, les seigneurs exigent de faire payer une taxe pour toute entrée. Les marchands et les artisans s'installent à l'extérieur des murailles et forment de nouveaux quartiers : les faubourgs.

III. Comment les villes s'imposent-elles comme des carrefours du commerce international ?

Activité 3 – Bruges, capitale marchande du nord de l'Europe

1°) Doc 1 p.66 - Au bord de quelle mer se situe Bruges ?

Il s'agit de la mer du Nord.

2°) Doc 1 p.66 - De quoi la ville est-elle entourée ?

Elle est entourée par des remparts.

3°) Docs 1 et 4 p.66-67 - Quels bâtiments prouvent que Bruges est une ville marchande ?

La présence de halles en est la preuve.

4°) Donnez sa définition.

Halle : lieu couvert où se tiennent les marchés.

5°) Doc 3 p.66 - Quel est le moyen de transport largement utilisé à Bruges ?

Il s'agit de barques car la ville est couverte de canaux.

6°) Doc 4 p.67 – Citez les produits fabriqués par les marchands flamands.

Ils fabriquent des toiles, des tissus, des tapis.

7°) Doc 4 p.69 – D'où peut venir la laine nécessaire aux marchands de la ville de Bruges ?

Elle vient de l'Angleterre.

8°) Doc ci-dessous – Soulignez en bleu qui dirige la ville entre le XIIe et le XVIIIe siècle.

9°) Doc ci-dessous – Soulignez en vert comment ils parviennent à attirer les riches hommes d'affaires à Bruges.

10°) Doc ci-dessous – Soulignez en noir qui dirige la ville à partir du XIIIe siècle.

11°) Doc ci-dessous – Soulignez en rouge comment ils ont obtenu ce nouveau droit.

12°) Doc 1 p.66 + voc – Où les nouveaux dirigeants de la ville exercent-ils leur pouvoir ?

Ils l'exercent à partir du beffroi.

13°) Doc 6 p.73 – Sur quoi Arnolfini a-t-il bâti sa fortune à Bruges ?

C'est un banquier.

14°) Doc 6 p.73 – Comment nomme-t-on cette nouvelle classe de marchand qui prend progressivement le contrôle des villes en accroissant leur fortune ?

On les nomme les bourgeois.

Doc – Le gouvernement de la ville de Bruges

« Du milieu du XIIe siècle à la fin du XIIIe siècle, le comté de Champagne est le centre des échanges commerciaux d'Europe. Afin d'attirer les hommes d'affaires étrangers, les comtes de Champagne (aussi Comte de Flandre) accordent leur protection en faisant escorter les marchands par leurs chevaliers. Mais progressivement, par une charte de franchises, ils décident d'accorder aux riches marchands le droit de s'administrer eux-mêmes. Sur la Grand-Place, la halle, un marché couvert, sert aussi d'hôtel de ville, en abritant le siège du gouvernement. Elle est surmontée d'un haut beffroi symbolisant la liberté de la ville. Dans les halles, Les Flamands [habitants de la Flandre] y vendent draps et toiles, les Italiens les soieries, des épices orientales et de la cire, les gens du Midi des cuirs venus d'Espagne, les Bourguignons du vin. »

D'après A. Baudin, professeur d'université

Bruges, comme la plupart des grandes villes d'Occident, se développe et s'enrichit grâce aux commerces. Pour accueillir de nouvelles populations, les villes s'agrandissent en créant des faubourgs. Un nouveau groupe prend la direction des villes : les bourgeois qui contribuent au développement des villes.

Activité 4 – Les villes au centre du commerce international

1°) Sur quelles mers se pratique le commerce maritime entre le XIe et XVe siècle ? Ecrivez leurs trois noms respectifs au stylo bleu sur la carte dans les rectangles blanc correspondants.

On distingue la mer Méditerranée, la mer du Nord et la mer Baltique.

2°) Repassez au crayon bleu les tirets des deux régions dont le développement économique repose sur les échanges maritimes.

3°) Quel port du nord de l'Europe est représenté par un figuré ponctuel. Placez-le en rouge sur la carte.

Il s'agit du port de Bruges.

4°) Quels sont les produits qui y sont débarqués ? Remplissez les cases grisées à l'aide de la carte vidéo-projetée.

On y voit débarquer du bois, des draps, du poisson...

5°) Quel est le produit fabriqué dans la région de ce port qui en fait sa spécialité ?

Il s'agit des draps.

6°) Quelle ville d'Italie est représentée par un figuré ponctuel. Placez-là en rouge sur la carte.

Il s'agit de Gênes.

7°) Quels sont les produits qui arrivent au sud de l'Europe ? Placez leur nom dans les cases grisées correspondantes.

On voit arriver des épices, de l'or, des tissus luxueux.

8°) D'après la carte, dans quel port italien sont-ils débarqués ?

Le port de Gênes est le port où arrivent de nombreux produits.

9°) Que peut-on dire de la valeur de ces produits par rapport à ceux débarqués dans les ports d'Europe du nord ?

Ces produits représentent un commerce plus lucratif.

10°) Dans quelle région d'Europe les marchands du nord et du sud se rencontrent-ils pour échanger et vendre leurs produits ?

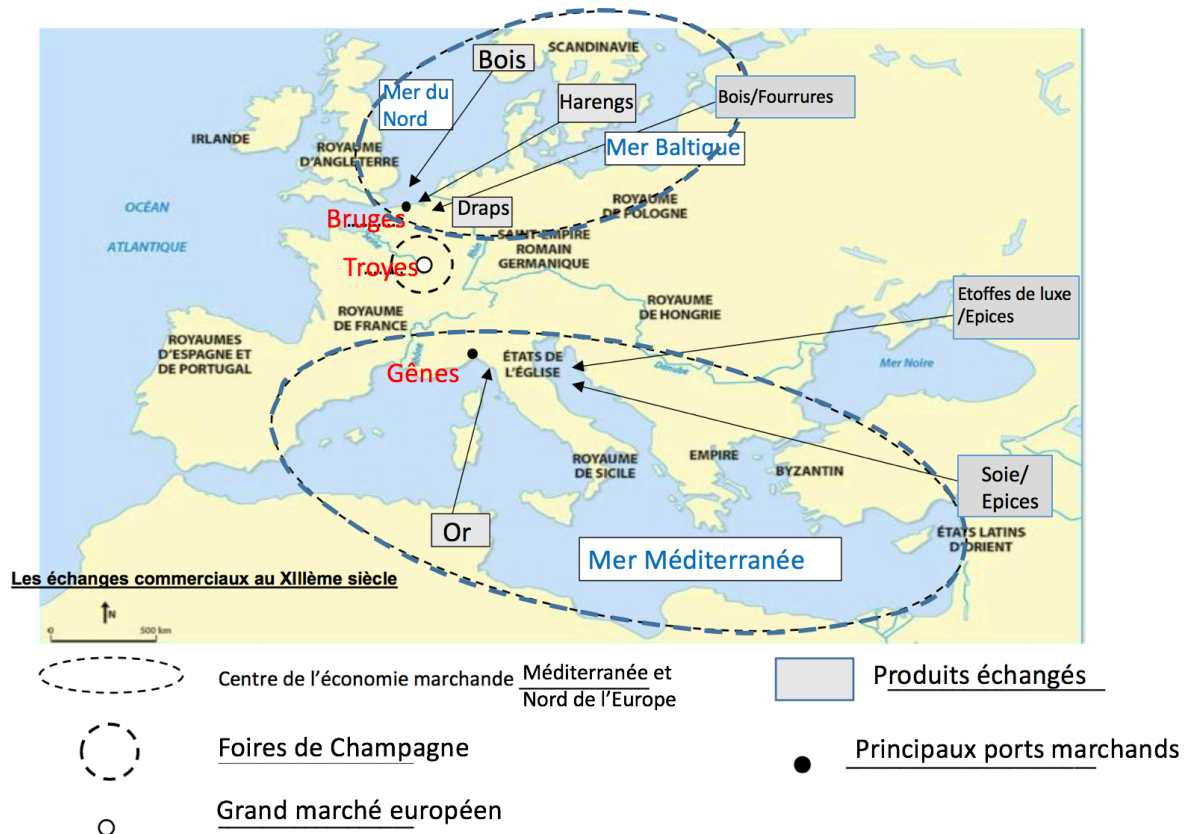
La région parisienne constitue un lieu de rencontre entre les marchands du Nord et du Sud de l'Europe.

11°) D'après la carte, lors de quel événement se rencontrent-ils ?

Ils se rencontrent lors de grandes foires.

12°) Placez en rouge l'une des villes marchandes de cette région sur la carte.

13°) Complétez la légende.



Le commerce contribue au développement et au renforcement des villes. On distingue trois régions qui se développent fortement au Moyen Age :

- Les Flandres en contact avec le Nord de l'Europe,
- Le Nord de l'Italie d'où arrivent des produits de luxe venus d'Orient,
- Et la Champagne qui s'affirme comme un lieu d'échange en Europe avec les grandes foires.

Activité 5 – Une culture urbaine

1°) Doc 2 p.76 – Qu'est-ce qui se développe à partir de 1270 ?

De nombreuses universités apparaissent.

2°) Doc 2 p.76 – Identifiez les trois pays européens où se développent ces établissements.

Les trois pays dans lesquels les universités apparaissent sont la France, l'Italie et l'Espagne.

3°) Doc 2 p.76 – Que fait-on dans ces établissements ?

On y reçoit des enseignements dans des disciplines diverses.

4°) Doc 4 p.77 – Que prévoit-on en cas de maladies des ouvriers corroyeurs ?

On prévoit une sorte d'assurance qui leur permet de subvenir à leurs besoins quotidiens.

5°) Doc 5 p.77 – Quelles constructions religieuses apparaissent en ville ?

Ce sont les cathédrales.

6°) Doc 5 p.77 – Ce type d'édifice peut-il être présent dans les campagnes ?

Cela est peu probable, à moins de la présence d'un lieu important pour la religion. En effet, les cathédrales sont des édifices massifs qui demandent un investissement très important. Les villes concentrant de la population ont les capacités pour accueillir la population.

Dans les villes, une véritable culture spécifique voit le jour. Elles accueillent des universités formant les savants et penseurs dont l’Europe a besoin. Mais elles voient aussi la construction d’édifices religieux dont les cathédrales sont les symboles.

Conclusion

Au Moyen Age, l’Occident se développe fortement grâce aux villes qui sortent de leurs remparts pour accueillir de nouvelle population. Les bourgeois prennent la direction des villes qui deviennent de véritables centres culturels.

Fiche d’objectifs pour réviser

Je dois être capable de connaître la signification des mots-clés suivants :

Ville, Faubourg, Bourgeois, Foires, Halle.

Je dois être capable :

- De situer dans le temps le doublement de la population européenne.
- D’expliquer les causes du développement des villes au Moyen Age.
- De décrire et d’expliquer l’organisation des villes médiévales.
- De situer les principaux centres de l’économie marchande au Moyen Age.
- De caractériser le fonctionnement des villes au Moyen Age.